

**1. Escribe los meses del año junto con los días que tiene cada uno.**

|  |  |
|--|--|
|  |  |
|  |  |
|  |  |
|  |  |
|  |  |
|  |  |

**2. Relaciona con flechas:**

- Año bisiesto •
  - Año •
  - Semana •
  - Día •
  - Hora •
- 365 días
  - 7 días
  - 60 minutos
  - 366 días
  - 24 horas

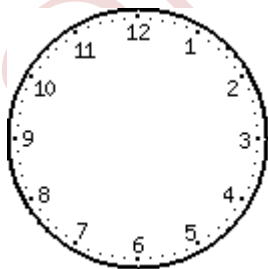
**3. Observa el calendario y responde:**

- ¿Qué día de la semana y del mes es hoy? \_\_\_\_\_
- ¿Qué día será mañana? \_\_\_\_\_
- ¿Qué día fue hace una semana? \_\_\_\_\_
- ¿Qué día de la semana será el 28 de junio? \_\_\_\_\_

**4. ¿Cuántos días tienen 4 semanas?** \_\_\_\_\_

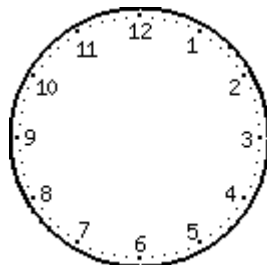
**5. Si una hora tiene 60 minutos, ¿cuántos minutos tienen 8 horas?**

**6. Completa. Fíjate en el ejemplo.**



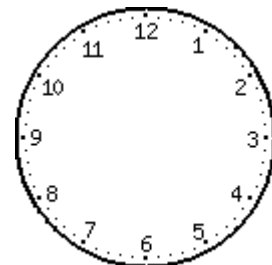
**04:00**

Son las cuatro de la  
madrugada



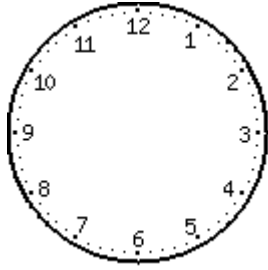
**15:15**

\_\_\_\_\_



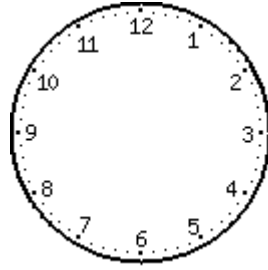
**06:00**

\_\_\_\_\_



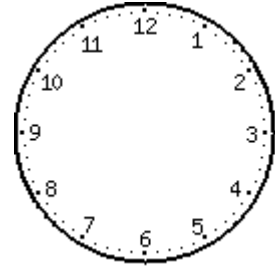
**05:15**

\_\_\_\_\_  
\_\_\_\_\_



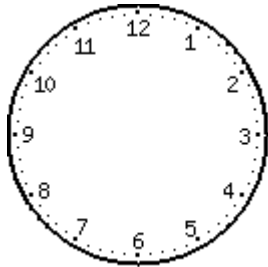
**10:00**

\_\_\_\_\_  
\_\_\_\_\_



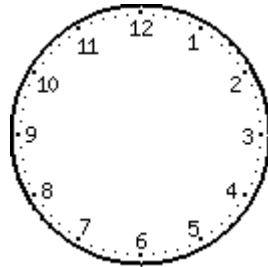
**15:30**

\_\_\_\_\_  
\_\_\_\_\_



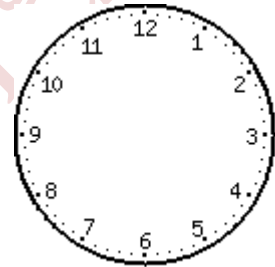
**13:45**

\_\_\_\_\_  
\_\_\_\_\_



**16:15**

\_\_\_\_\_  
\_\_\_\_\_



**05:45**

\_\_\_\_\_  
\_\_\_\_\_



**10:23**

*mañana*



\_\_ : \_\_

*tarde*



\_\_ : \_\_

*noche*



\_\_ : \_\_

*madrugada*



\_\_ : \_\_

*tarde*



\_\_ : \_\_

*mañana*



\_\_ : \_\_

*tarde*



\_\_ : \_\_

*tarde*



\_\_ : \_\_

*mañana*



\_\_ : \_\_

*madrugada*



\_\_ : \_\_

*tarde*



\_\_ : \_\_

*madrugada*

7. **Quiero ver una película en el cine que empieza a las 21:00 horas. Son las tres de la tarde. ¿Cuántas horas quedan para que empiece la película?**

8. **Quiero comprar un cuaderno que me cuesta 3 euros y 56 céntimos. Dibuja las monedas que cogerías para reunir este dinero.**

9. *Empecé a realizar la tarea a las cuatro de la tarde. He tardado en hacer matemáticas 30 minutos; lengua, 25 minutos y c. medio, otros 30 minutos.*

a) ¿Cuánto he tardado en hacer toda la tarea? \_\_\_\_\_

b) ¿A qué hora terminé toda la tarea? \_\_\_\_\_

10. *Escribe cuántos euros y céntimos son estos céntimos. Fíjate en el ejemplo.*

234 céntimos → 2 euros 34 céntimos

540 céntimos → \_\_\_\_\_

802 céntimos → \_\_\_\_\_

953 → \_\_\_\_\_

11. *Tengo 25 euros. Compra con este dinero las cosas que quieras y puedas. ¿Cuántos has gastado? ¿Te sobra algo?*

|   |  |  |  |
|---|--|--|--|
| <br>50 céntimos    | <br>18 euros  | <br>9 euros  | <br>45 céntimos |
| <br>1, 60 céntimos | <br>380 euros | <br>75 euros | <br>20 euros    |