

CONTROL – NOMBRE Y FECHA: _____

MATEMÁTICAS – Tiempo y dinero

1. Si 1 euro son 100 céntimos, completa:

200 euros = _____ céntimos 50 euros = _____ céntimos

8 euros = _____ céntimos 73 euros = _____ céntimos

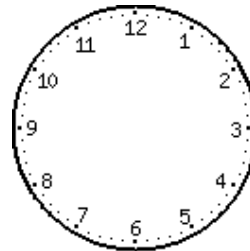
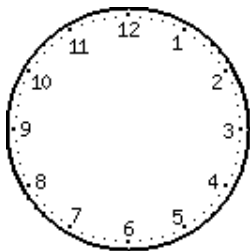
2. Fíjate en el ejemplo y completa:

45,12 euros = 45 euros 12 céntimos	5,90 euros =
42,58 euros =	83,70 euros =
90,15 euros =	120,57 euros =
0,70 euros =	0,34 euros =

3. Hoy es lunes. Dentro de tres días me voy de viaje. ¿Qué día de la semana será?

4. El sábado fuimos a ver una película al cine. Si la película empezó a las 18:00 h. y terminó a las 19:45 horas, ¿cuánto tiempo duró la película?







- Coloca las horas anteriores en estos relojes de aguja y escríbela con letra.



5. He comprado dos lápices a 2 € cada uno y un cuaderno a 9 €. Entrego un billete de 20 euros, ¿cuánto me devuelven?

CONTROL – NOMBRE Y FECHA: _____

6. Rodea las monedas y/o billetes que necesites para reunir estas cantidades:

<p>23,60 euros</p> 	<p>150 euros</p> 
<p>8,20 euros</p> 	<p>0,59 euros</p> 
<p>2,18 euros</p> 	<p>58,40 céntimos</p> 

7. Completa y rodea de rojo los meses que tienen 31 días.

Meses del año: _____

Cada ____ años, el año es bisiesto, es decir, tiene ____ días. Ese día de más se le añade a febrero que pasa a tener ____ días.

1 milenio = _____ años / 1 siglo = _____ años / 1 trimestre = _____ meses

1 año = _____ días = _____ meses / 1 semana = _____ días

1 día = _____ horas / 1 hora = _____ minutos / 1 minuto = _____ segundos

CONTROL – NOMBRE Y FECHA: _____

- Dibuja una línea que mida 7 cm, otro que mida 1 cm y otro que mida 10 cm.

- En el pueblo de Felipe compraron 64 m de tela para adornar la plaza. Si con esa tela hicieron 32 banderas, ¿cuántos centímetros midió cada bandera?

- Alicia y su madre fueron al parque en bicicleta. Si el parque está a 755 m de su casa y allí recorrieron 1.350 m, ¿qué longitud recorrieron en total después de volver a su casa?

- Pilar llena 5 vasos de zumo con una jarra de 1 l de capacidad. ¿Cuánto centilitros caben en cada vaso?
1 litro = _____ cl

- Para ir desde su casa a la biblioteca, Paloma recorre 2 km y 30 m, y su hermano para ir al polideportivo recorre 1.569 m. ¿Quién de los dos recorre mayor distancia?

De la tarde



De la tarde



De la tarde



De la tarde