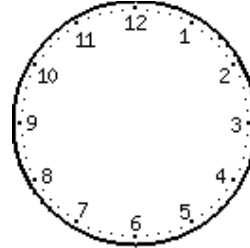
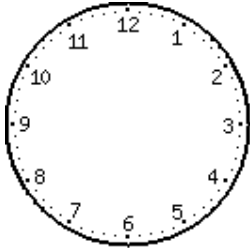


- Hoy es lunes. Dentro de tres días me voy de viaje. ¿Qué día de la semana será?
- El sábado fuimos a ver una película al cine. Si la película empezó a las 18:00 h. y terminó a las 19:45 horas, ¿cuánto tiempo duró la película?

- Coloca las horas anteriores en estos relojes de aguja y escríbela con letra.



\_\_\_\_\_

\_\_\_\_\_

3. Si 1 euro son 100 céntimos, completa:

2 euros = \_\_\_\_\_ céntimos      5 euros = \_\_\_\_\_ céntimos





8 euros = \_\_\_\_\_ céntimos      13 euros = \_\_\_\_\_ céntimos

4. Fíjate en el ejemplo y completa:

45,12 euros = 45 euros 12 céntimos	15,90 euros =
12,50 euros =	80,10 euros =
40,25 euros =	120,57 euros =
0,70 euros =	0,34 euros =

5. Tacha las monedas y/o billetes que sobren para reunir estas cantidades:

23,60 euros	150 euros

<p style="text-align: center;">8,20 euros</p> 	<p style="text-align: center;">0,59 euros</p> 
<p style="text-align: center;">2,18 euros</p> 	<p style="text-align: center;">58,40 céntimos</p> 

6. Completa:

Un año tiene \_\_\_\_\_ días.

Cada \_\_\_\_ años, el año es bisiesto, es decir, tiene \_\_\_\_\_ días. Ese día de más se le añade a febrero que pasa a tener \_\_\_\_\_ días.

Meses con 30 días: \_\_\_\_\_, \_\_\_\_\_,  
 \_\_\_\_\_ y \_\_\_\_\_.

1 año = 365 \_\_\_\_\_ = \_\_\_\_\_ meses

1 semana = \_\_\_\_\_ días

1 día = \_\_\_\_\_ horas

1 hora = \_\_\_\_\_ minutos

1 minuto = \_\_\_\_\_ segundos