

**1. Relaciona:**

Clima Mediterráneo •

Clima Atlántico •

Clima Subtropical •

Clima de montaña •

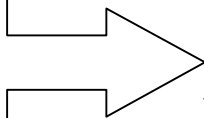
Clima mediterráneo de interior •

• Clima Templado

• Clima No Templado

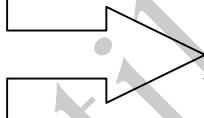
**2. Escribe el clima al que se refiere cada definición:**

- *Inviernos suaves*  
- *Veranos calurosos*  
- *Lluvias escasas e irregulares*



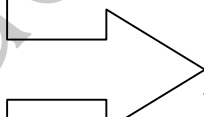
\_\_\_\_\_

- *Inviernos suaves*  
- *Veranos frescos*  
- *Lluvias abundantes*



\_\_\_\_\_

- *Temperaturas muy bajas en invierno*  
- *Veranos frescos*  
- *Precipitaciones abundantes y nieve*



\_\_\_\_\_

**3. Rodea la respuesta correcta:**

¿Qué tipo de clima caracteriza a tu localidad?

- a. clima mediterráneo
- b. clima mediterráneo de interior
- c. clima atlántico

¿En qué lugar de España predomina el clima subtropical?

- a. Cádiz
- b. Cataluña
- c. Islas Canarias

**4. Escribe el tipo de clima de cada lugar:**

Galicia → \_\_\_\_\_

Cádiz → \_\_\_\_\_

Castilla-La Mancha → \_\_\_\_\_

Pirineos → \_\_\_\_\_

Valencia → \_\_\_\_\_

Tenerife → \_\_\_\_\_

**5. Relaciona cada río con la vertiente a la que pertenece:**

<i>Guadalquivir</i>	
<i>Duero</i>	
<i>Nalón</i>	• Vertiente Atlántica
<i>Tajo</i>	
<i>Júcar</i>	
<i>Tinto</i>	• Vertiente Mediterránea
<i>Segura</i>	
<i>Ebro</i>	
<i>Miño</i>	• Vertiente Cantábrica
<i>Bidasoa</i>	

**6. Señala y nombra en el mapa los ríos de España de la siguiente manera:**

- de azul, los ríos de la vertiente atlántica;
- de rojo, los ríos de la vertiente mediterránea;
- de verde, los ríos de la vertiente cantábrica.